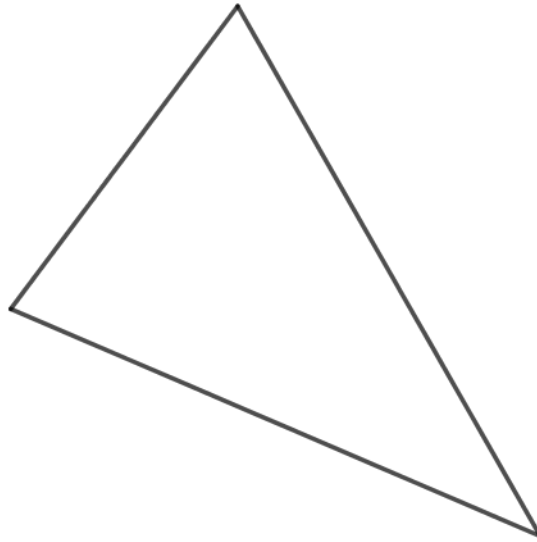


Nom Prénom ..... Classe ..... Note : /20

Note estimée : /20

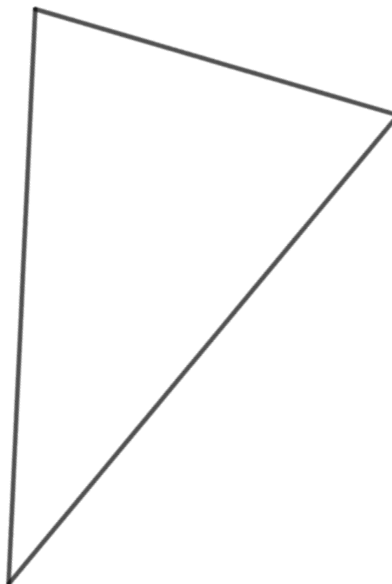
**Exercice 1 (5 points)**

Tracer les médianes du triangle ci-dessous.



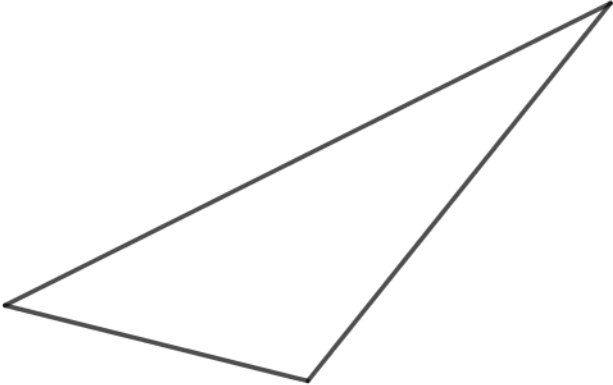
**Exercice 2 (5 points)**

Tracer les médiatrices du triangle ci-dessous.



**Exercice 3 (5 points)**

Tracer les hauteurs du triangle ci-dessous.



**Exercice 4 (5 points)**

Tracer le cercle circonscrit au triangle ci-dessous :

