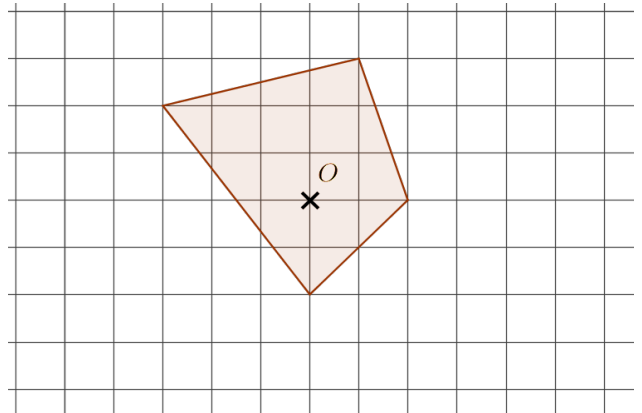
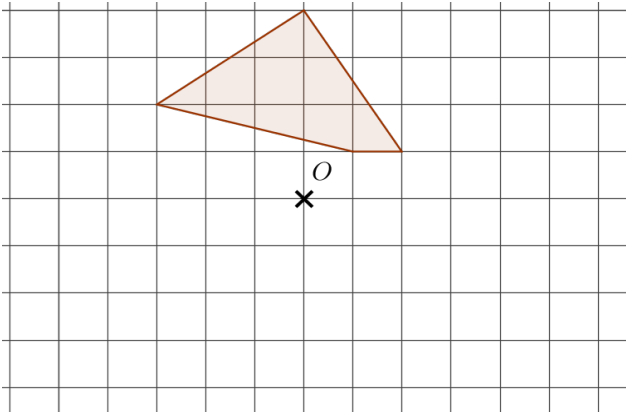


## Symétrie centrale

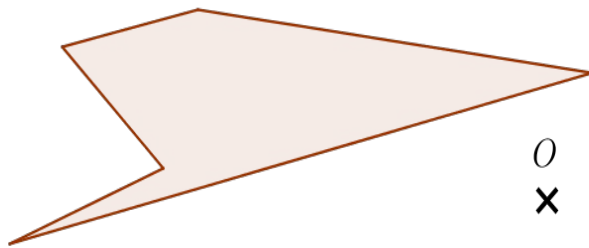
### Exercice 1 – 8 points

Construire la figure symétrique par rapport au point O de chacune des figures, en utilisant le quadrillage :



### Exercice 2 – 5 points

Construire la figure symétrique par rapport au point O, en utilisant une règle et un compas :



### Exercice 3 – 7 points

Construire un parallélogramme  $ABCD$  avec  $AC = 7$  cm et  $BD = 5$  cm, en utilisant une règle et un compas :

Nom – Prénom : .....

Note estimée :

**Compétence 6 :**

Je sais construire une symétrie centrale avec une règle et un compas

**Compétence 7 :**

Je sais construire une symétrie centrale avec un quadrillage

**Compétence 8 :**

Je sais construire un parallélogramme avec un compas